






POLECENIE:

ROZWIĄŻ ZADANIE! UZUPEŁNIJ PUSTE POLA CYFRAMI TAK, ABY RÓWNANIA BYŁY PRAWDZIWE ZARÓWNO W PIONIE, JAK I POZIOMIE.
UWAGA! NA NIEKTÓRYCH POLACH SĄ PĄCZKI, POD KTÓRYMI UKRYWAJĄ SIĘ KONKRETNE LICZBY.


MATEMATYKA
bez reszty



1



5



3

	+		=	
+		+		+
	+		=	
=		=		=
	+		=	