




Jaka pora dnia jest w tych miastach? Obok nazw miast podano różnicę czasu między tym miastem, a Warszawą. Ustaw na zegarach odpowiednie godziny, porównując czas do podanego czasu w Warszawie. Dopasuj do nich odpowiednią porę dnia. Pomoże Ci przykład.


**WARSZAWA**



Południe


**PRZYKŁAD:**

**BUENOS AIRES -5h**



Poranek

**TOKIO +7h**




\_\_\_\_\_

\_\_\_\_\_

\_\_\_\_\_

**NOWY JORK -6h**




\_\_\_\_\_

\_\_\_\_\_

\_\_\_\_\_

**PRAGA 0h**




\_\_\_\_\_

\_\_\_\_\_

\_\_\_\_\_

**LONDYN -1h**



\_\_\_\_\_

\_\_\_\_\_

\_\_\_\_\_



JAKIE BYŁO  
ĆWICZENIE?



ŁATWE



W SAM RAZ



SPRAWIŁO MI PROBLEM