



POLECENIE

KASIA I TOMEK DOSTALI PREZENTY NA MIKOŁAJKI. DOWIEDZ SIĘ CO DZIECI DOSTAŁY, ROZWIĄZUJĄC DZIAŁANIA MATEMATYCZNE. TOMEK DOSTAŁ TE PREZENTY, PRZY KTÓRYCH WYNIK JEST LICZBĄ PARZYSTĄ, KASIA NATOMIAST TE Z WYNIKIEM NIEPARZYSTYM. ILE PREZENTÓW DOSTAŁO KAŻDE Z DZIECI?

Zaznacz zieloną kredką prezenty Tomka, a fioletową Kasi.


Następnie uzupełnij puste pola i kółka w krzyżówce wpisując właściwe liczby i znaki.


Wszystkie działania w niej ukryte odpowiadają tym przy prezentom dzieci.


Zwróć uwagę na to, że jedno z działań w krzyżówce jest już uzupełnione i zaznaczone – to przykład.

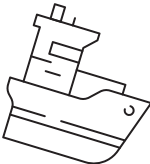
$5+4=$ 


$3+1=$


$6+2=$ 

$8-3=$ 

$4-1=$ 

$10-9=$ 

$3+3=$ 

$4+3=$ 

4	4	3	○	3	○		9
○							
3	5	5	+	2	3	5	
○							
	4	4	6	○	2	○	
7	8	9	=	9	5	10	
3	1	9	3	4	9		
○							
1	4	○	1	○		2	
○							
	5	9	3	4	5		
5	1	8	○	3	○		9

